


**Sujet 1 EVALUATION DE LEÇON DE 5<sup>e</sup> SUR LA PLACE DE L'ÉGLISE AU MOYEN-ÂGE :**

L'orthographe et la présentation (propreté) sont notés sur 1 point. Répondre aux questions par des phrases réponse.

NOTE :	CONSEILS / APPRECIATION :

**Exercice 1 : le message religieux de l'Église par l'histoire de l'art**

**/4,5**



**QUESTIONS :**

**1) Dans quel village et quel département de France la sculpture représentée sur le document se trouve-t-elle ? De quel type de sculpture s'agit-il ? (1 point)**

.....

.....

**2) Nomme les éléments représentés les chiffres sur la photographie : (2 points)**

1 : ..... 2 : ..... 3 : ..... 4 : .....

5 : ..... 6 : ..... 7 : .....

**3) Quel est le message religieux transmis aux chrétiens du Moyen-Âge à travers cette sculpture ? Explique. (1.5 point)**

.....

.....

.....

.....

## Exercice 2 : les différents rôles de l'Eglise au Moyen-Age

/2

1) Pourquoi dit-on de l'Eglise qu'elle joue un rôle intellectuel au Moyen-Age ? Explique. (1 point)

.....

.....

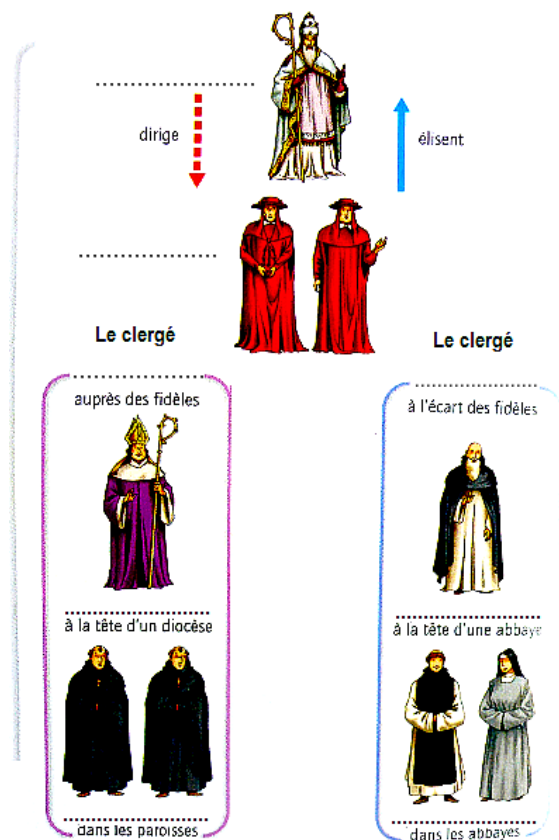
2) Connais-tu un autre rôle joué par l'Eglise au Moyen-Age ? Explique. (1 point)

.....

.....

## Exercice 3 : l'organisation et la richesse de l'Eglise

/5



### QUESTIONS :

1) Complète le schéma d'organisation de l'Eglise ci-joint (8 mots à placer). (2,5 points)

2) Pourquoi le mot « Eglise » est-il écrit avec une majuscule ici ? Dans quel cas ce mot s'écrit-il sans majuscule ? (0.5 point)

.....

.....

.....

3) Qu'est-ce que la dîme ? Explique. (1 point)

.....

.....

.....

### 1 L'organisation de l'Église

4) Cite deux autres exemples de sources de revenus pour l'Eglise au Moyen-Age. (1 point)

.....

.....

## Exercice 4 : la vie du clergé dans une abbaye cistercienne

/7,5


1) Qu'est-ce qu'une abbaye ? (0.5 point)

.....

.....

.....

2) Sur la photographie aérienne de l'abbaye de Fontenay ci-dessous, indique le nom de lieux demandés. (2 points)



1 : ..... 3 : .....

2 : ..... 4 : .....

- Indice pour n°1 : partie centrale de l'abbaye servant souvent de lieu de méditation.
- Indice pour n°2 : partie de l'abbaye servant souvent pour la prière.
- Indice pour n°3 : partie de l'abbaye servant à la copie de manuscrits.
- Indice pour n°4 : partie de l'abbaye servant de salle de réunion.

3) Cite un exemple de lieu consacré au travail des moines et un exemple de lieu où les moines vivent en communauté (autres que ceux indiqués par les chiffres ci-dessus). (1 point)

.....

.....

.....

4) Dans un texte d'entre 5 et 10 lignes, explique comment s'organisait la vie quotidienne des moines dans l'abbaye de Fontenay au Moyen-Age. Rédige ta réponse sur ta feuille de classeur. (4 points)

Quelques conseils de rédaction :

- ⇒ Evoquer : le nom du clergé auquel ils appartiennent, le nom de la règle qu'ils suivent.
- ⇒ Expliquer leurs activités quotidiennes, la façon dont ils vivent.
- ⇒ Penser aux différents lieux qui composent l'abbaye.